

# CUADERNO DE REPASO

Vacaciones de verano

## 2º PRIMARIA



Calcula:

$$\begin{array}{r} + 26 \\ + 39 \\ \hline \end{array}$$

$$\begin{array}{r} - 53 \\ - 18 \\ \hline \end{array}$$

$$\begin{array}{r} + 92 \\ + 52 \\ \hline \end{array}$$

$$\begin{array}{r} - 51 \\ - 25 \\ \hline \end{array}$$

$$\begin{array}{r} + 71 \\ + 61 \\ \hline \end{array}$$

$$\begin{array}{r} - 81 \\ - 47 \\ \hline \end{array}$$

$$\begin{array}{r} + 71 \\ + 84 \\ \hline \end{array}$$

$$\begin{array}{r} - 62 \\ - 6 \\ \hline \end{array}$$

$$\begin{array}{r} + 60 \\ + 83 \\ \hline \end{array}$$

$$\begin{array}{r} - 94 \\ - 37 \\ \hline \end{array}$$

$$\begin{array}{r} + 48 \\ + 29 \\ \hline \end{array}$$

$$\begin{array}{r} - 70 \\ - 39 \\ \hline \end{array}$$

$$\begin{array}{r} + 64 \\ + 92 \\ \hline \end{array}$$

$$\begin{array}{r} - 90 \\ - 5 \\ \hline \end{array}$$

$$\begin{array}{r} + 29 \\ + 06 \\ \hline \end{array}$$

$$\begin{array}{r} - 80 \\ - 16 \\ \hline \end{array}$$

$$\begin{array}{r} + 70 \\ + 74 \\ \hline \end{array}$$

$$\begin{array}{r} - 81 \\ - 27 \\ \hline \end{array}$$

$$\begin{array}{r} + 17 \\ + 15 \\ \hline \end{array}$$

$$\begin{array}{r} - 83 \\ - 26 \\ \hline \end{array}$$

$$\begin{array}{r} + 49 \\ + 27 \\ \hline \end{array}$$

$$\begin{array}{r} - 74 \\ - 47 \\ \hline \end{array}$$

$$\begin{array}{r} + 60 \\ + 80 \\ \hline \end{array}$$

$$\begin{array}{r} - 52 \\ - 7 \\ \hline \end{array}$$

Ordena los siguientes números de menor a mayor:

218

364

415

602

389

➤ \_\_\_\_\_

199

301

113

250

227

➤ \_\_\_\_\_

826

798

659

744

812

➤ \_\_\_\_\_

Ordena los siguientes números de mayor a menor:

553

448

389

611

525

➤ \_\_\_\_\_

602

713

624

890

758

➤ \_\_\_\_\_

333

401

387

420

392

➤ \_\_\_\_\_

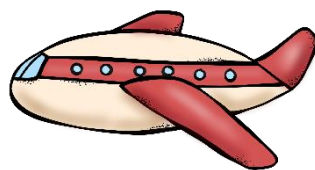
Ordena alfabéticamente:



---

---

---



---

---


---



---

---

---



---

---

---



---

---

---




---

---

---


1. \_\_\_\_\_
2. \_\_\_\_\_
3. \_\_\_\_\_
4. \_\_\_\_\_
5. \_\_\_\_\_
6. \_\_\_\_\_

Observa el dibujo y escribe:




• Suma → \_\_\_\_\_

• Multiplicación → \_\_\_\_\_



• Suma → \_\_\_\_\_

• Multiplicación → \_\_\_\_\_



• Suma → \_\_\_\_\_

• Multiplicación → \_\_\_\_\_



• Suma → \_\_\_\_\_

• Multiplicación → \_\_\_\_\_

Ordena las letras y empareja con su dibujo:



r a e f s

---



a n z m a n a

---



e a r e c z s

---



n l a p o t a

---



s d a n a i

---

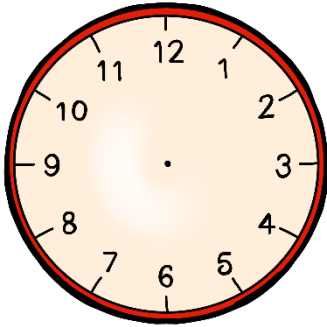


a r n a j a n

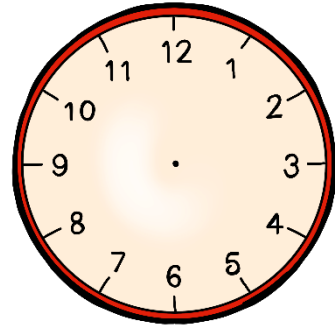
---



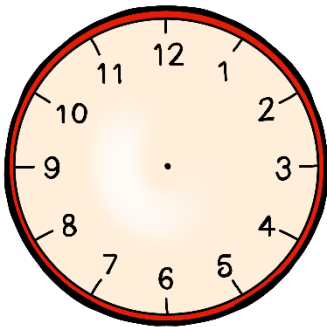
Dibuja la hora en el reloj:



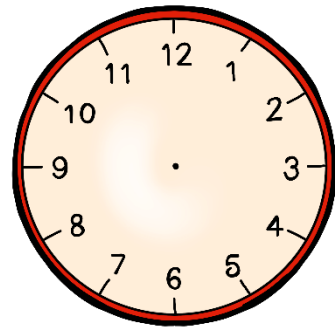
Son las once y  
media



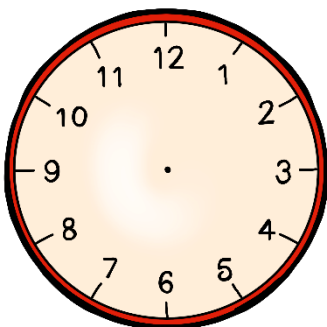
Son las doce y  
cuarto



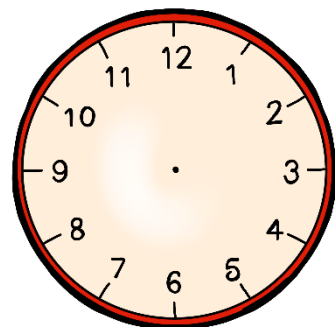
Son las cuatro en  
punto



Son las tres menos  
cuarto



Son las siete y diez



Son las seis menos  
cinco



Lee e indica verdadero o falso:

Había una vez un delfín que soñaba con tocar la luna. Todos los días, saltaba fuera del agua para tratar de alcanzarla, pero nunca lo lograba. Un día, después de muchos intentos, algo mágico sucedió. El delfín saltó más alto de lo normal y de repente, sintió que su aleta tocaba la luna. Se sintió emocionado y feliz.

- El delfín soñaba con tocar el sol.

V	F
---	---

- El delfín consiguió alcanzar la luna la primera vez que lo intentó.

V	F
---	---

- El delfín tocó la luna con una de sus aletas.

V	F
---	---

- El delfín estaba feliz por haber tocado la luna.

V	F
---	---



Resuelve los siguientes problemas:

- María tenía ahorrado 284€ y se ha gastado 138€ en una bicicleta. ¿Cuánto dinero le queda?
- Javier ha ido al centro comercial y se ha comprado unos pantalones que costaban 29€, una Camisea que costaba 35€ y un abrigo que costaba 52€. ¿Cuánto dinero se ha gastado?
- Quedan tres semanas para las vacaciones de verano. ¿Cuántos días quedan?

Completa las frases:

noche

pájaros

arroyo

alegría

sofá



suave

cielo

árboles

1. El sol brilla en el \_\_\_\_\_ azul.
2. Los \_\_\_\_\_ cantan en el bosque.
3. El agua fresca corre por el \_\_\_\_\_.
4. Las flores bailan con la brisa \_\_\_\_\_.
5. El gato duerme plácidamente en el \_\_\_\_\_.
6. El viento susurra entre los \_\_\_\_\_ altos.
7. Las estrellas brillan en la \_\_\_\_\_ oscura.
8. El niño ríe con \_\_\_\_\_ en el parque.

Completa las siguientes series:



# Colorea

- Un círculo rojo.
- Un cuadrado verde.
- Un triángulo amarillo.
- Un rombo azul.
- Un pentágono rosa.
- Un rectángulo naranja.

